

A reformkortól a millenniumig – a XIX. század Zircen

Táv: 4 km

Kategória: Időutazás Zircen

Menetidő: kb. 3 óra a látóvalók megtekintésével együtt

Útvonal bejárása: gyalogosan

Elérhetőség: egész évben

A séta megkezdéséhez a *Március 15. térre* kell elgyalogolni (82-s úton Veszprém felé, Városháza). Itt a kor nagyjainak szobrait és egy emléktáblát látunk. Tekintsük meg őket, és válaszoljunk az első két kérdésre:

1. feladat (Széchenyi és Kossuth mellszobrai): Kossuth hány évvel élte túl Széchenyit?

2. feladat (Kossuth Lajos emléktábla): Fejtsd meg a rejtvényt? Miről nevezetes a kapott város Kossuth szempontjából?

„Az emig³ác⁴6ba⁵ elhun¹ nagy magyar államférfi emlékének halála centenáriumán. Állította a Zirci Vár²svédő és Szépítő Egyesület”

A, Kossuth szülőhelye

B, Innen irányította a szabadságharcot

C, Kossuth halálának helyszíne



Visszatérünk a *Rákóczi térre*, ahol **Reguly Antal mellszobrát** keressük fel.

3. feladat: Melyik földrészen kutatott Reguly? _____

Menjünk át a tér másik oldalára és keressük meg a sárgára festett Dubniczay-házat. E házban pillantotta meg a napvilágot **Reguly Antal**. Falán **emléktábla** látható, ahol a következő rejtvényt kell megfejtenünk (minden betű külön számít). Ennek során egy szintén a **XIX. században élt személy nevét** kapjuk, akinek nagy szerepe volt a **Reguly által összegyűjtött anyag feldolgozásában**:

4. feladat:

1/10 5/4 7/11 6/3 8/5 7/15 7/14 3/21 1/9 2/10 5/2 7/8



Az épületben találjuk a **Reguly Antal Múzeum és Népművészeti Alkotóházat** (nyitva: V.1 – VIII.31: minden nap 9.00 – 17.00, IX.1 – IV.30: kedd-szombat 9.00 – 12.00, 13.00 – 17.00, vasárnap 10.00 – 12.00, 14.00 – 16.00, Belépődíj felnőtt: 300 Ft, diák, nyugdíjas, pedagógus: 150 Ft). Térjünk be ide, hogy megfejthessük a Reguly Antal életét bemutató kiállításon a következő feladatot:

5. kérdés: Oldalt Finnország térképe látható. Mely városokban járt Reguly is? Jelöljük be őket!

A következő feladat is a Múzeumhoz kapcsolódik:

6. kérdés: Ki volt az a zirci apát, aki nagyban segítette Reguly utazásait?

A múzeum megtekintése után a József Attila utcán (a Tourinform iroda, majd a Katzer-közkút és a kálvária előtt elhaladva) folytatjuk utunkat. A XIX. század eleje óta létező *kálváriával* szemben nyíló Kálvária utcán folytatjuk utunkat, ahol érdemes szemügyre venni a 2-s és 8-s számú szép házakat. Az első utcán jobbra elérjük a *Wilde* (a XIX század meghatározó zirci családja) *teret*.

7. feladat: Az emlékkövön melyik névnel szerepel korábbi évszám? _____

Balra, a *Bajcsy-Zsilinszky Endre utcán*, majd annak végén, a XIX. század nagy írójáról

elnevezett utcában balra, felfelé folytassuk sétánkat. Jobbra újabb reformkori illetőről elnevezett utcára térünk (*Táncsics Mihály u.*). Elérve a **zirci felső temetőt**, keressük meg benne az Anton Karls Gattin által emelt **keresztet**. (Vigyázzunk, két kereszt is van a temetőben!)

8. feladat: Miből készülhetett a kereszt?

A, vörös homokkő

B, sötét mészkő

C, Zöld pala

A temetőt elhagyva a Borzavári, majd a kanyarban folytatásában a *Deák Ferenc utcán* gyalogolunk a város felé. Az út nagy

kanyarjában **fakereztet** találunk balkézre, ide kapcsolódik a következő feladat.

9. feladat: Hány Ft-os ajtatos alapítvány emelte a keresztet? Megtudjuk, ha összeszámoljuk a fekete táblán lévő összes(!) „s” betűt. _____


A Rákóczi térre visszaérve utunkat a Köztársaság utcán folytatjuk a város Vasútállomásáig. Itt két nevezetességet kell felkeresni.



10. feladat (Széchenyi István emlékfá): Hány évesen lett az 1791-ben született Széchenyi közlekedési miniszter? _____

11. feladat (vasút emléktábla): Milyen nevezetes esemény kötődik ahhoz az évhez, amelyben megnyílt a vasútvonal?

- A, Kiegyezés B, Millennium C, Világosi fegyverletétel



Térjünk vissza a Rákóczi térre és vegyük célba az **OSZK Reguly Antal Műemlékkönyvtárat** (nyitva: III. 15. – XI. 14.: 9.00 – 12.00, 13.00 – 17.00, XI. 15 – III. 14.: 10.00 – 12.00, 13.00 – 16.00, szünnap hétfő, csak vezetéssel, belépődíjak: felnőtt 500 Ft, kedvezményes 250 Ft).

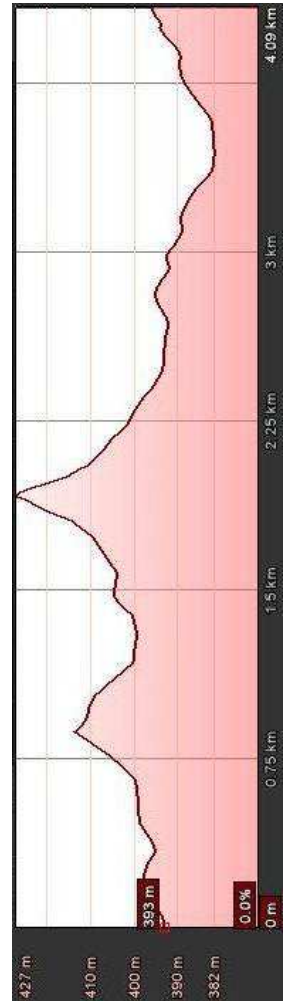
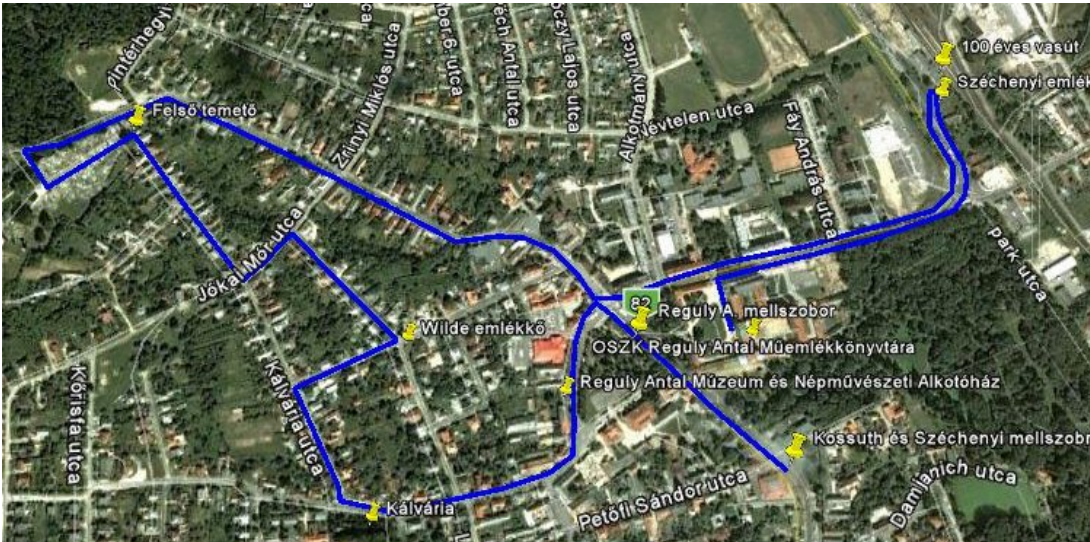
12. feladat: Melyik világiállításon nyert díjat Wilde József?

- A, 1851, London B, 1855, Párizs C, 1862, London

13. feladat: Miről volt híres a Wilde-testvérpár?

- A, Apátság építői B, Zirci apátok C, Intarziás fabútorzat készítői

A kitöltött feladatlapot mutassuk meg a könyvtár idegenvezetőjének!



<p><u>Jeskó Panzió (Kossuth L. u. 28.)</u></p> <p>10 % kedvezmény az éttermi fogyasztás, ill. a szállásdíj árából, készpénzfizetés esetén</p>	<p><u>Cuha-völgye étterem (Kossuth L. u. 11.)</u></p> <p>Főétel fogyasztása után 1 adag ajándék Cuha-völgye palacsinta</p>	<p><u>Szarvaskút Hotel (Szarvaskút)</u></p> <p>5 % kedvezmény az éttermi fogyasztás végösszegéből, ill. a szállásdíjból</p>
<p><u>Szent Bernát kegytárgybolt (Rákóczi tér 1.)</u></p> <p>10 % vásárlási kedvezmény</p>	<p><u>Rézkakas Fogadó (Béke u. 8.)</u></p> <p>5 % kedvezmény a szállásdíjból a második éjszakától</p>	